


4

الْجَمْعُ وَالطَّرْحُ - أَحَدُ الْقِسْمَيْنِ هُوَ 15













أَضِيفُوا عُمَلَاتٍ بِحَسَبِ التَّمَرِينِ وَحُلُّوا.

مثال



11

10 + 2 = 12

 <div>5 + ____ = 10</div>	  <div>15 + ____ = 20</div>
 <div>5 + ____ = 8</div>	  <div>15 + ____ = 18</div>
 <div>5 + ____ = 7</div>	  <div>15 + ____ = 17</div>
 <div>5 + ____ = 9</div>	  <div>15 + ____ = 19</div>

مسارات - الجمع والطرح حتى 20 - الجزء الأول
(بدون فرط العشرة)

مركز التكنولوجيا التربوية

جميع الحقوق محفوظة لمركز التكنولوجيا التربوية