

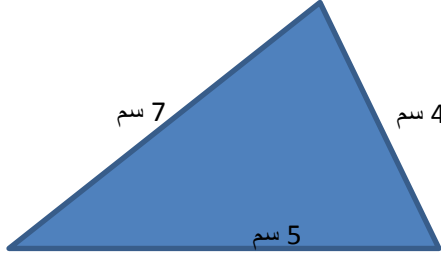



## هذا الامتحان مقدم من منتديات صقر الجنوب



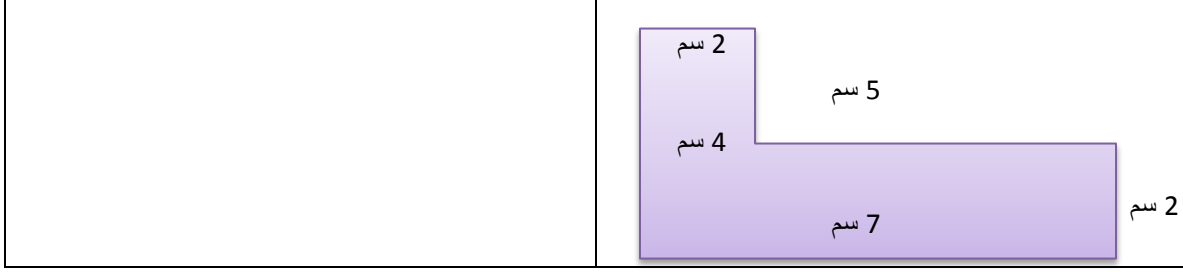
### اختبار الشهر الثاني لمادة الرياضيات – الصف السادس الفصل الدراسي الثاني 2015 – 2016

اسمي :	صفي :
--------	-------

السؤال الاول : أوجد محط كل من المضلعات التالية :

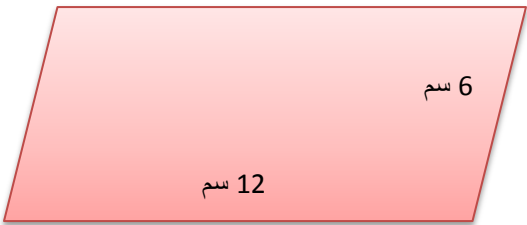
## هذا الامتحان مقدم من منتديات صقر الجنوب



السؤال الثاني : قطعة أرض سباعية الأضلاع منتظمة الشكل، طول ضلعها 35 م ، احيطت بشبك حماية معدني حولها تكلفة المتر الواحد من هذا الشبك 7 دنانير أردنية، جد تكلفة سياج هذه الأرض ؟



السؤال الثالث : الشكل المجاور متوازي اضلاع طول قاعدته 12 سم وارتفاعه 6 سم ، أوجد مساحته (بطريقتين) :



• الطريقة الأولى :

• الطريقة الثانية :

السؤال الرابع : شبه منحرف مساحته 8 دسم<sup>2</sup> ، طول إحدى قاعدتيه 16 دسم ، وارتفاعه 4 دسم جد طول قاعدته الأخرى



## هذا الامتحان مقدم من منتديات صقر الجنوب



السؤال الخامس : جد حجم صندوق هدايا على شكل متوازي مستطيلات ، قياس اضلاعه كما في الشكل :



السؤال السادس : خزان ماء مكعب الشكل حجمه (49) م<sup>3</sup> ، جد طول ضلعه ؟



السؤال السابع : تم تبليط صالة اجتماعات على شكل متوازي مستطيلات، ابعاد قاعدتها (12 م) (10 م) ، وارتفاعها (4 م) ، ما مساحة المنطقة التي تم تبليطها؟

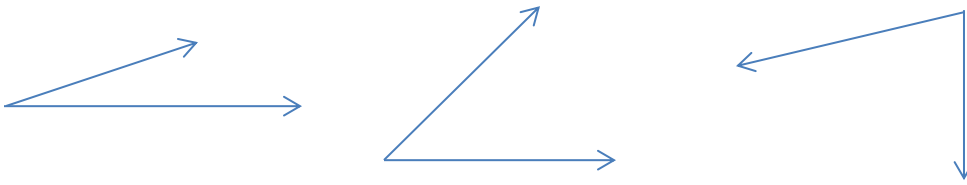


## هذا الامتحان مقدم من منتديات صقر الجنوب



السؤال الثامن : اجب عن الأسئلة التالية:

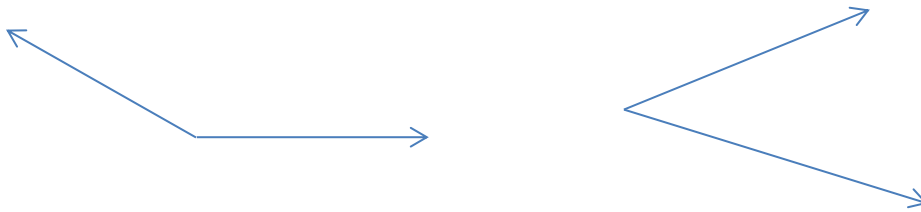
(أ) قَدِّر قياس الزوايا التالية :



(ب) أرسم الزوايا ذات القياسات التالية :

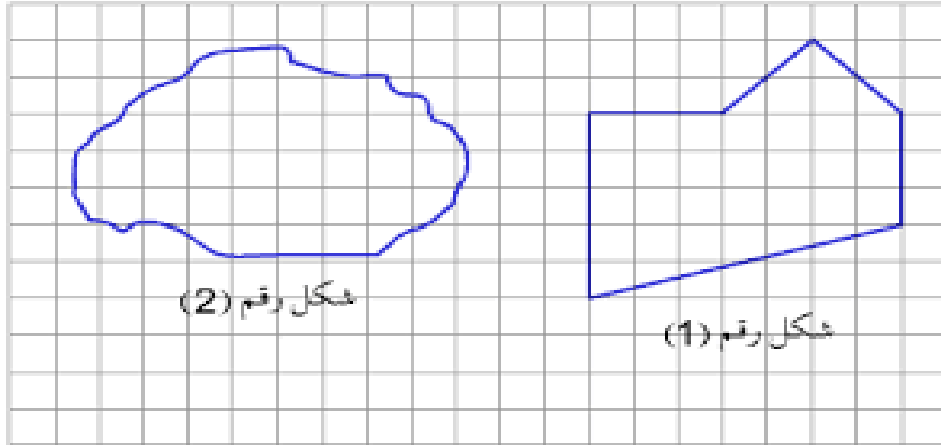
$^{\circ} 310$  ،  $^{\circ} 125$  ،  $^{\circ} 80$  ،  $^{\circ} 45$

(ج) جد قياس الزاويتين التاليتين :



السؤال التاسع : قَدِّر مساحة الشكلين التاليين:

## هذا الامتحان مقدم من منتديات صقر الجنوب



السؤال العاشر : أجب عن الأسئلة التالية:

أ) نحتاج لصنع قالب من الحلوى (250) مل من الحليب، إذا كان لدينا (1) لتر من الحليب، كم قالباً من الحلوى يمكننا ان نصنع؟

ب) سيارة محرك 1300 س س، حجم خزان البنزين فيها 30 لتر، كم حجمه بالمليترات؟

ج) ضع العدد المناسب في ، لتحصل على اجابة صحيحة :

1. 35 دسم<sup>3</sup>  مل

2. 36000 مل  لتر

3. 500 م<sup>3</sup>  لتر

## هذا الامتحان مقدم من منتديات صقر الجنوب



د) ما الوحدة المناسبة لقياس كل من :

1. عرض كتاب .....
2. طول قلم حبر .....
3. سعة زجاجة عطر .....
4. سعة خزان ماء .....

---

انتهى الامتحان ،،

امنياتى للجميع بالتوفيق  
والنجاح،

حسن  
سواد