



مجموع إنتاج مواد إثرائية مساندة للمنهج

مادة تدريبية (أوراق عمل) في الرياضيات

الوحدة الثالثة: الطرح ضمن العدد ٩٩



الصف: الأول الأساسي
المادة: الرياضيات

فكرة وتنفيذ:
نهاد حسن
مشرفة مركز مصادر التعلم

إعداد:
محمّد البشتاوي
أستاذة الحلقة الأولى
مدرسة وفور وقاصح



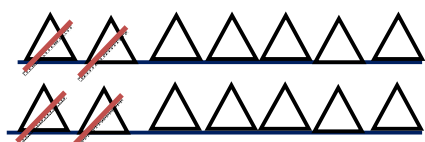
س١: جد ناتج الطرح في المربع




$$\square = 8 - 17$$



$$\square = 5 - 14$$



$$\square = 4 - 14$$



$$\square = 9 - 18$$

س٢: أكتب مسائل عددية من الأعداد التالية:

٥ ١٠ ١٥

١٥ ٥ ١٠

١٥ ١٠ ٥



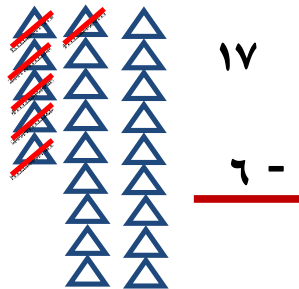
س٣: أ طرح العدد (١٠):



$$= 10 - 16$$

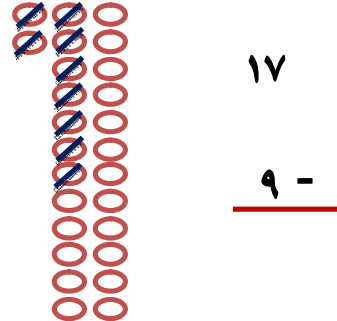


$$= 10 - 12$$



١٧

- ٦

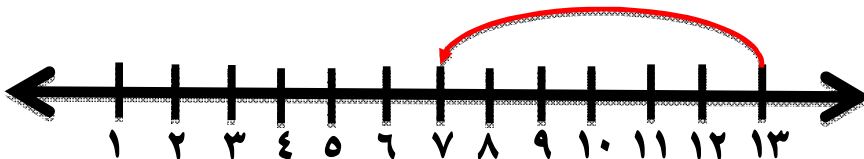


١٧

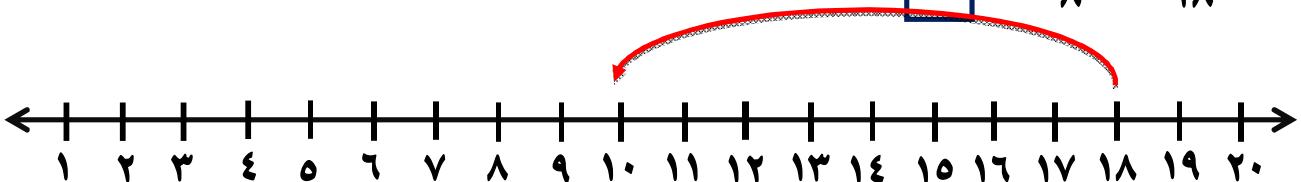
- ٩



س٤: ا طرح على خط الأعداد، كما في المثال:

$$\boxed{7} = 6 - 13$$



$$\boxed{} = 8 - 18$$





س٥: أعبّر عن الصورة الأتية بجملة عددية:

.....

س٦: أكتب العدد المناسب في :

$$\square = 16 - 6 \quad | \quad 8 = \square - 14 \quad | \quad 9 = 9 - \square$$

س٧: أطرّح عشرات:

$$\begin{array}{r} 62 \\ - 10 \\ \hline \end{array}$$

$$\begin{array}{r} 38 \\ - 10 \\ \hline \end{array}$$

$$\begin{array}{r} 85 \\ - \dots \\ \hline \end{array}$$

$$\begin{array}{r} 30 \\ - \dots \\ \hline \end{array}$$

س٨: أطرح ثم أكتب الناتج:

عشرات	آحاد
٧	٨
-	-
٤	٣
.....

عشرات	آحاد
٨	٩
-	-
٢	٥
.....



س٩: مع خالد ٨٧ ، اشتري علبة ألوان بسعر ٥٣ ، فكم قرشاً بقي

معهُ



س١٠: مع محمد ٤٥ ، أهدى أخته شهد ١٥ كتاباً، فكم  بقي

معهُ



س ١١: أجد ناتج الطرح:

$$72$$

$$46$$

$$63$$

$$\underline{11 -}$$

$$\underline{32 -}$$

$$\underline{13 -}$$

.....

.....

.....

$$= 33 - 67$$

$$= 22 - 98$$

$$= 12 - 56$$

