


# مشروع إنتاج مواد إثرائية مساندة للمنهج

## مادة إثرائية (أوراق عمل) في الرياضيات

### الوحدة الأولى



الصف: الأول الأساسي  
المادة: الرياضيات

فكرة وتنفيذ:

نهاد حسن

مشرفة مركز مصادر التعلم

إعداد:


محمد فضيل البشتاوي

أستاذة الحلقة الأولى

مدرسة وفور وقاصح




س١: أحصر ١٠ تفاحات في كل مجموعة:




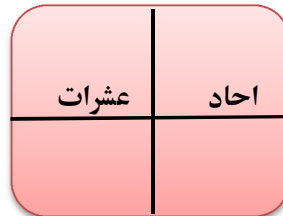
س٢: لون عشرة من الرسوم التالية:



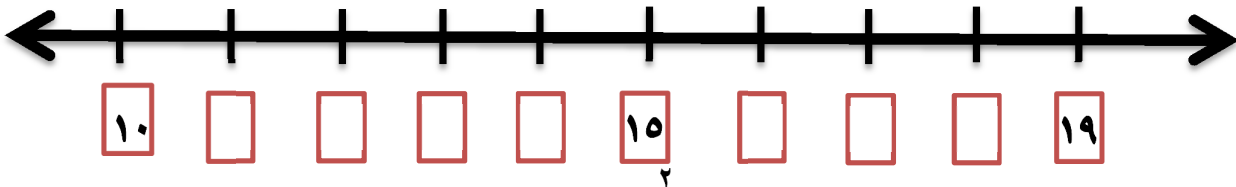
س٣: أضع العدد المناسب في المربع :



=



س٤: أكتب الاعداد على خط الاعداد:



س٥: أكمل الاعداد:

	١٨			١٥			١٢		١٠
--	----	--	--	----	--	--	----	--	----

س٦: جد ناتج الجمع :

$$\square = ١٠ + ٥ \quad \square = ٣ + ١٠ \quad \square = ٢ + ١٠$$

س٧: اكتب العدد المناسب في الفراغ:



عشرات	آحاد
.....	.....

سبعة عشر:

س٨: أكمل الفراغات تنازليا:

				٥٠				٩٠
--	--	--	--	----	--	--	--	----

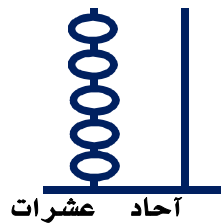
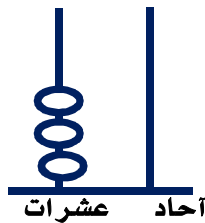
س٩: أكتب عددا أصغر أو اكبر بعشرة:

٩٠	
----	--

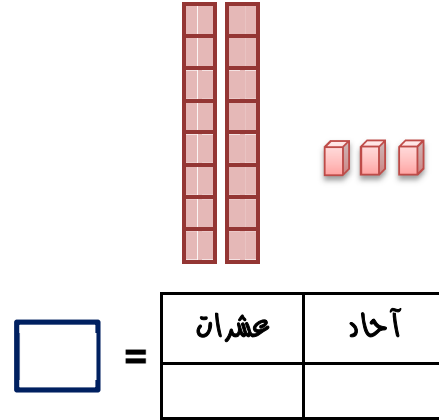
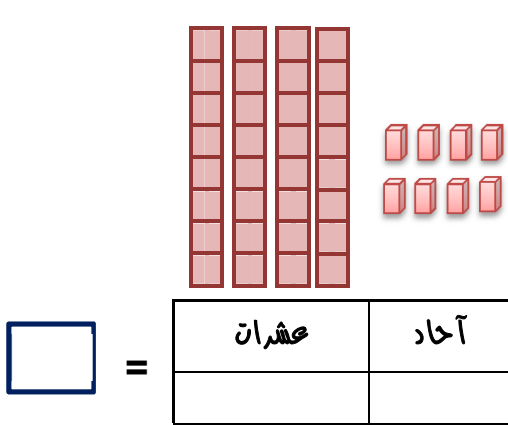
	٦٠
--	----

٤٠	
----	--

س١٠: أكتب العدد الممثل على المعداد:



س١١: أكتب عدد المناسب في الفراغ:



س١٢: اكتب القيمة المنزلية للرقم (٧) فيما يلي:



العدد	القيمة المنزلية للرقم ٧
٣٧	
٧٥	

س١٣: أكمل جدول الاعداد التالي:

							٣٧		٣٥
--	--	--	--	--	--	--	----	--	----

س١٤: اكتب العدد التالي:

٥٠	
----	--

٢٨	
----	--

١٨	
----	--

اكتب العدد السابق:

٤٦	
----	--

٨٠	
----	--

١٦	
----	--

---

---



---

---



01, 02

۷۷ ، ۷۸

۲۲, ۲۶

79, 29



01, 77

70,00

92, 17

۷۲ ، ۱۷



س١٩: أرتب الأعداد الآتية **تنازليا**:

--	--	--

٣٧ ، ١٥ ، ٢٩

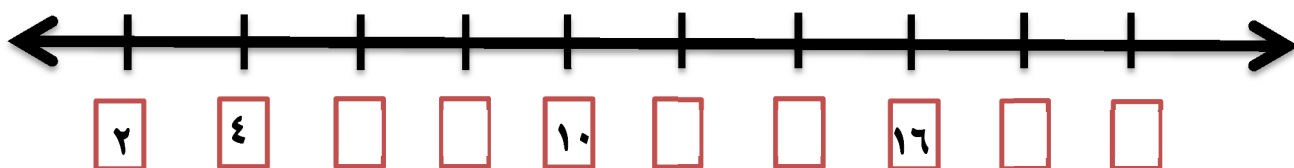


س٢٠: أرتب الأعداد الآتية بدءا **تصاعديا**:

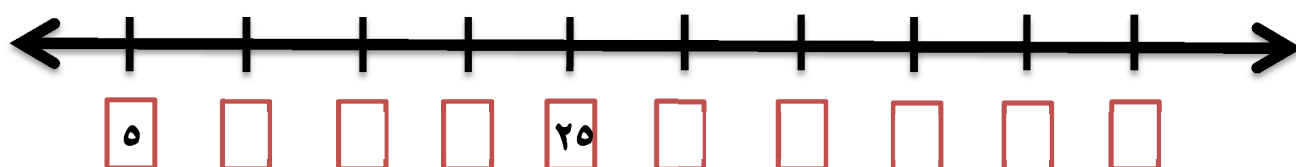
--	--	--

٤٢ ٣٣ ٥٥

س٢١: أعد اثنتين، ثم اكتب العدد في الشكل  :



س٢٢: أعد خمسات، ثم اكتب العدد في الشكل  :





س٢٣: ضع العدد المناسب في

$$\bigcirc + \bigcirc = \text{عشرات } \bigcirc \text{ و } \text{احاد } \bigcirc = \textcircled{٤٦}$$

$$\bigcirc + \bigcirc = \text{عشرات } \textcircled{٥} \text{ و } \text{احاد } \textcircled{٨} = \bigcirc$$



س٢٤: أكمل الجدول الاتي بالترتيب:

٩							٢	١	٠
١٩			١٦	١٥				١١	١٠
				٢٥					
٣٩		٣٧				٣٣		٣١	٣٠
							٤٢		
	٥٨				٥٤			٥١	
		٦٧						٦١	
٧٩	٧٨		٧٦						٧٠
				٨٥					
٩٩					٩٤			٩١	٩٠

